

ตัวอย่างแนวข้อสอบ E-exam พร้อมเฉลย

ข้อที่ 1 (Q00000113)
เครื่องหมายนี้ หมายความว่าอย่างไร



1. ระวังคนข้ามถนน
2. ระวังเครื่องบิน บินต่ำ
3. ระวังเด็กนักเรียน
4. ระวังอันตราย

ข้อที่ 2 (Q00000086)
เมื่อพบเครื่องหมายนี้ ผู้ขับขี่ควรปฏิบัติอย่างไร



1. ผู้ขับขี่ในทางหลัก เตรียมเข้าทางคดเคี้ยว
เริ่มซ้าย
- 2. ผู้ขับขี่ในทางหลัก เตรียมออกทางขนาน
และให้ทางแก่รถที่อยู่ในทางขนานผ่านไปก่อน**
3. ผู้ขับขี่ในทางหลัก เตรียมออกทางคดเคี้ยว
เริ่มขวา
4. ผู้ขับขี่ในทางหลัก เตรียมออกทางคดเคี้ยว
เริ่มซ้าย

ข้อที่ 3 (Q00000049)
เครื่องหมายนี้ หมายความว่าอย่างไร



1. ช่องจราจรลดลงด้านซ้าย
2. ช่องจราจรปิดด้านขวา
3. ช่องจราจรปิดทั้งสองด้าน
4. ช่องจราจรปิดด้านซ้าย

ข้อที่ 4 (Q00000104)
เมื่อพบเครื่องหมายนี้ ผู้ขับขี่ควรปฏิบัติอย่างไร



1. ให้ผู้ขับขี่เตรียมพร้อมที่จะจอดรถได้
2. ให้ผู้ขับขี่เตรียมพร้อมที่จะเลี้ยวซ้ายได้
3. ให้ผู้ขับขี่เตรียมพร้อมที่จะหยุดรถได้ทันทีเมื่อถึงป้ายหยุดในทางข้างหน้า
4. ให้ผู้ขับขี่เตรียมพร้อมที่จะให้ทาง

ข้อที่ 5 (Q00000178)
เครื่องหมายนี้ หมายความว่าอย่างไร



1. ให้ใช้เสียงได้
2. ห้ามหยุดรถ
3. ห้ามจอดรถ
4. ห้ามใช้เสียง

ข้อที่ 6 (Q00000217)
เครื่องหมายนี้ หมายความว่าอย่างไร



1. ห้ามตรงไปหรือเลี้ยวขวา
2. ให้เลี้ยวทางซ้ายหรือทางขวา
3. ห้ามเลี้ยวทางซ้ายหรือทางขวา
4. ห้ามตรงไปหรือเลี้ยวซ้าย

ข้อที่ 7 (Q00000150)
เครื่องหมายนี้ หมายความว่าอย่างไร



1. ห้ามเลี้ยวซ้ายหรือกลับรถ
2. ห้ามไปทางซ้ายหรือทางขวา
3. ให้ไปทางซ้ายหรือทางขวา
4. ให้เลี้ยวซ้ายหรือกลับรถ

ข้อที่ 8 (Q00000200)
เมื่อพบเครื่องหมายนี้ ผู้ขับขี่ต้องปฏิบัติอย่างไร



1. ให้หยุดรถรอ เพื่อให้รถที่กำลังสวนทางมาก่อน
2. ให้ลดความเร็วแล้วขับรถ เบี่ยงไปทางด้านขวา
3. ให้ลดความเร็วแล้วขับรถ เบี่ยงไปทางด้านซ้าย
4. ห้ามขับรถยนต์ผ่าน

ข้อที่ 9 (Q00000219)
เครื่องหมายนี้ หมายความว่าอย่างไร



1. ให้ตรงไปแต่ห้ามเลี้ยวซ้าย
- ➔ 2. ให้ตรงไปหรือเลี้ยวซ้าย
3. ห้ามตรงไปหรือเลี้ยวขวา
4. ห้ามตรงไปหรือเลี้ยวซ้าย

ข้อที่ 10 (Q00000221)
เครื่องหมายนี้ หมายความว่าอย่างไร



- ➔ 1. ให้ตรงไปหรือเลี้ยวขวา
2. ห้ามตรงไปหรือเลี้ยวซ้าย
3. ห้ามตรงไปหรือเลี้ยวขวา
4. ให้ตรงไปหรือเลี้ยวซ้าย

ข้อที่ 11 (Q00000242)

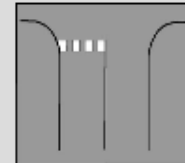
เมื่อพบเครื่องหมายนี้ ผู้ขับขี่ควรปฏิบัติอย่างไร



1. ชับรถให้ช้าลง เพิ่มความระมัดระวัง ทางข้างหน้าสำรวจทาง
2. ชับรถให้ช้าลง เพิ่มความระมัดระวัง ทางข้างหน้ามีเครื่องจักรกำลังทำงาน
3. ชับรถอย่างรวดเร็ว เพิ่มความระมัดระวัง ทางข้างหน้ามีรถไฟผ่าน
4. ชับรถอย่างรวดเร็ว เพิ่มความระมัดระวัง ทางข้างหน้ามีคนทำงาน

ข้อที่ 12 (Q00000268)


เมื่อพบเครื่องหมายนี้ ผู้ขับขี่ควรปฏิบัติอย่างไร?



1. ให้ผู้ขับขี่ชะลอความเร็วลง และรีบเร่งเครื่องไปก่อน
2. ชับรถให้ช้าลง ให้ทางแก่คนและรถที่อยู่ในทางขวางหน้า
3. ให้ผู้ขับขี่ขับรถอย่างรวดเร็ว
4. ให้ผู้ขับขี่ ชับรถให้ช้าลง แล้ว แขงได้

ข้อที่ 13 (Q00000267)

เมื่อพบเครื่องหมายนี้ ผู้ขับขี่ควรปฏิบัติอย่างไร?



1. ห้ามขับรถตรงไปหรือเลี้ยวขวา ห้ามเปลี่ยนช่องจราจร
2. ห้ามเลี้ยวซ้ายหรือเลี้ยวขวา ห้ามเปลี่ยนช่องจราจร
3. **สามารถแซงได้ และสามารถเปลี่ยนช่องจราจรได้**
4. ให้ขับรถไปทางเดียวด้านซ้าย ห้ามเปลี่ยนช่องจราจร

ข้อที่ 14 (Q00000277)

เมื่อพบเครื่องหมายนี้ ผู้ขับขี่ควรปฏิบัติอย่างไร?



1. ที่กลับรถ
2. **ผู้ขับขี่ต้องหยุดรถเพื่อให้คนข้ามถนน**
3. ที่สำหรับคนพิการ
4. ที่ห้ามคนข้ามถนน

ข้อที่ 15 (Q00002408)

ผู้ขับรถไม่มีใบอนุญาตขับรถ มีความผิดอย่างไร

1. จำคุกไม่เกิน 1 ปี
2. ปรับไม่เกิน 5,000 บาท
3. ปรับไม่เกิน 2,000 บาท
4. จำคุกไม่เกิน 1 เดือน หรือปรับไม่เกิน 1,000 บาทหรือทั้งจำทั้งปรับ

ข้อที่ 16 (Q00002406)

ผู้ขับรถกระทำผิดตามกฎหมายจราจรทางบกและได้รับใบสั่งจากเจ้าพนักงานจราจรต้องไปติดต่อชำระค่าปรับภายในกี่วัน

1. 10 วัน
2. 7 วัน
3. 30 วัน
4. 15 วัน

ข้อที่ 17 (Q00002090)
ภาพในข้อใดต่อไปนี้เป็นถูกต้อง?

1. ภาพทางขวามือ



2. ภาพทางขวามือ



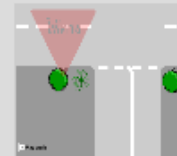
3. ภาพทางขวามือ



4. ภาพทางขวามือ



ข้อที่ 18 (Q00000910)
จากภาพผู้ขับขี่รถคันนี้จะต้องปฏิบัติอย่างไร



1. หยุดรถและรอให้รถในทางขวางหน้าขับผ่านไปก่อน

2. ให้ชะลอรถแล้วหยุดคร่อมเส้นประเพื่อให้มองเห็นรถที่มาจากด้านขวามือ

3. ขับรถผ่านไปได้ทันที เนื่องจากเป็นเส้นประ

4. ขับรถผ่านไปได้ทันที เนื่องจากมีป้ายให้ทางแสดงไว้


ข้อที่ 19 (Q00000903)
จากภาพรถคันใดมีสิทธิใช้ทางได้ก่อน



1. รถคัน ข. เนื่องจากอยู่ในทางโท
2. รถคัน ข. เนื่องจากอยู่ในทางเอก
3. รถคัน ก. เนื่องจากอยู่ในทางเอก
4. รถคัน ก. เนื่องจากอยู่ในทางโท

ข้อที่ 20 (Q00002088)
จากภาพ ข้อใดแสดงการหยุดรถที่ไม่ถูกต้อง?

1. ภาพทางขวามือ
2. ภาพทางขวามือ
3. ภาพทางขวามือ
4. ภาพทางขวามือ



ข้อที่ 21 (Q00002085)
จากภาพต่อไปนี้ ภาพใดแสดงการจอดรถอย่างถูกต้อง?

1. ภาพทางขวามือ



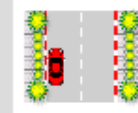
2. ภาพทางขวามือ



3. ภาพทางขวามือ



4. ภาพทางขวามือ



ข้อที่ 22 (Q00002487)
ผู้ขับขี่ควรใช้แตรเมื่อใด?

1. ป้องกันอันตรายหรืออุบัติเหตุที่อาจเกิดขึ้นจากรถ

2. ทักทายผู้ขับขี่คันอื่นที่รู้จักกัน

3. เร่งรถคันหน้าให้ขับเร็วขึ้น

4. ไล่คนเดินเท้าที่กำลังข้ามทางม้าลาย

ข้อที่ 24 (Q00002373)

ผู้ขับขี่ต้องเปิดไฟหน้าหรือไฟท้ายรถ ให้รถคันอื่น
เห็นได้ในระยะไม่น้อยกว่าเท่าใด

1. 150 เมตร

2. 60 เมตร

3. 120 เมตร

4. 100 เมตร

ข้อที่ 25 (Q00002353)

การจอดรถต้องจอดให้ห่างจากขอบทางไม่เกินกี่ เซนติเมตร

➡ 1. ห่างไม่เกิน 25 เซนติเมตร

2. ห่างไม่เกิน 40 เซนติเมตร

3. ห่างไม่เกิน 30 เซนติเมตร

4. ห่างไม่เกิน 35 เซนติเมตร

ข้อที่ 26 (Q00002400)

รถที่มีความเร็วช้า ผู้ขับจะต้องปฏิบัติอย่างไร

➡ 1. ขับรถชิดขอบด้านซ้าย

2. ขับรถได้ทั้งด้านซ้ายและด้านขวา

3. ขับรถที่บริเวณไหล่ทาง

4. ขับรถชิดขอบด้านขวา

ข้อที่ 27 (Q00002448)

ขณะขับรถเครื่องยนต์เกิดความร้อนสูง ควรปฏิบัติ
อย่างไร

1. หยุดรถในที่ปลอดภัย แล้วเปิดฝาท่อน้ำ
เติมน้ำทันที
2. หยุดรถที่ปลอดภัย แล้วเอาน้ำมาราดเครื่อง
ยนต์
3. หยุดรถในที่ปลอดภัย เอาน้ำแข็งมาแช่เครื่อง
ยนต์
4. หยุดรถในที่ปลอดภัย แล้วปล่อยให้เครื่อง
เย็นก่อน

ข้อที่ 28 (Q00002485)

การจับพวงมาลัยขณะขับรถทางตรง มือซ้ายและ
ขวาของผู้ขับขี่ ควรอยู่ในตำแหน่งลักษณะใดของ
หน้าปัดนาฬิกา

1. ตำแหน่งเลข 4 และเลข 10
2. ตำแหน่งเลข 3 และเลข 10
3. ตำแหน่งเลข 6 และเลข 10
4. ตำแหน่งเลข 2 และเลข 10

ข้อที่ 29 (Q00002507)
ถ้าขี้วัวแบริดเตอร์มีคราบกรด ข้อใดเป็นวิธีการแก้ไข
ที่ดีที่สุด

1. ใช้น้ำประปาล้างทำความสะอาด
2. ใช้น้ำร้อนล้างทำความสะอาด
- 3. ใช้น้ำอุ่นล้างและทาจารบี**
4. ใช้น้ำกลั่นล้างและทาจารบี

ข้อที่ 30 (Q00002512)
การตรวจสอบระบบไฟฟ้าในรถยนต์ควรตรวจสอบ
อะไรบ้าง

1. ไฟเลี้ยวซ้าย-ขวา
2. ไฟหน้าและไฟเลี้ยวซ้ายขวา
3. ไฟเบรกและไฟหน้า
- 4. ไฟเลี้ยวซ้าย-ขวาและไฟหน้าสูงต่ำ-ไฟหรี่-ไฟเบรก-ไฟส่องป้ายทะเบียนรถ**

ធនធាន

1. ថ្នាំ 2
2. ថ្នាំ 2
3. ថ្នាំ 4
4. ថ្នាំ 3
5. ថ្នាំ 4
6. ថ្នាំ 2
7. ថ្នាំ 1
8. ថ្នាំ 1
9. ថ្នាំ 2
10. ថ្នាំ 1
11. ថ្នាំ 2
12. ថ្នាំ 2
13. ថ្នាំ 3
14. ថ្នាំ 2
15. ថ្នាំ 4
16. ថ្នាំ 2
17. ថ្នាំ 4
18. ថ្នាំ 1
19. ថ្នាំ 2
20. ថ្នាំ 1
21. ថ្នាំ 2
22. ថ្នាំ 1

24. ថ្នាំ 1
25. ថ្នាំ 1
26. ថ្នាំ 1
27. ថ្នាំ 4
28. ថ្នាំ 4
29. ថ្នាំ 3
30. ថ្នាំ 4

