

ตัวอย่างแนวข้อสอบ E-exam พร้อมเฉลย

ข้อที่ 1 (Q00000016)
เมื่อพบเครื่องหมายนี้ ผู้ขับขี่ควรปฏิบัติอย่างไร



1. ให้ขับรถช้าลง และชิดขวา ขับรถไปตามทางโค้งกลับรัศมีแคบเริ่มซ้าย
2. ขับรถให้ช้าลงและเดินรถด้วยความระมัดระวัง
3. ให้ขับรถช้าลง และชิดขวา ขับรถไปตามทางคดเคี้ยวเริ่มซ้าย
4. ให้ขับรถช้าลง และชิดซ้าย ขับรถไปตามทางโค้งกลับรัศมีแคบเริ่มขวา

ข้อที่ 2 (Q00000100)
เมื่อพบเครื่องหมายนี้ ผู้ขับขี่ควรปฏิบัติอย่างไร



1. ขับรถให้ช้าลง และให้ชิดซ้าย ทางข้างหน้ามีรถสวนทางมา
2. ขับรถให้ช้าลง และให้ชิดซ้าย ทางข้างหน้ามีทางเดินรถทางเดียวด้านขวา
3. ขับรถให้ช้าลง และให้ชิดซ้าย ทางข้างหน้ามีทางเดินรถทางเดียวด้านซ้าย
4. ขับรถให้ช้าลง และให้ชิดซ้าย ทางข้างหน้ามีทางเดินรถทางเดียว

ข้อที่ 3 (Q00000081)
เครื่องหมายนี้ หมายความว่าอย่างไร



1. ให้ออกทางขนาน
2. ไม่เปลี่ยนช่องทางจราจร
3. ให้เปลี่ยนช่องทางจราจร
4. ไม่ออกทางขนาน

ข้อที่ 4 (Q00000116)
เมื่อพบเครื่องหมายนี้ ผู้ขับขี่ควรปฏิบัติอย่างไร



1. ชับรถให้ช้าลง และระมัดระวังเป็นพิเศษ ทางข้างหน้ามีอันตราย เช่นทางทรุด
2. ชับรถให้ช้าลง และระมัดระวังคนข้ามถนนเป็นพิเศษ
3. ชับรถให้ช้าลง และระมัดระวังสัตว์
4. ชับรถให้ช้าลง และระมัดระวังเด็กนักเรียนเป็นพิเศษ

ข้อที่ 5 (Q00000213)
เครื่องหมายนี้ หมายความว่าอย่างไร



1. ให้เลี้ยวขวา
2. ห้ามเลี้ยวซ้าย
3. ให้เลี้ยวซ้าย
4. ห้ามเลี้ยวขวา

ข้อที่ 6 (Q00000203)
เครื่องหมายนี้ หมายความว่าอย่างไร



1. ทางเดินรถทางเดียวไปทางซ้าย
2. ให้ขับรถไปทางขวาเท่านั้น
3. ไปได้เฉพาะทางขวาเท่านั้น
4. ห้ามขับรถไปทางขวา

ข้อที่ 7 (Q00000152)
เครื่องหมายนี้ หมายความว่าอย่างไร



1. ให้รถยนต์จอด และหยุดรับ-ส่งได้ในเขตที่ติดตั้งป้าย
2. ห้ามรถยนต์ทุกชนิดผ่านเข้าไปในเขตที่ติดตั้งป้าย
3. ให้รถยนต์ทุกชนิดผ่านเข้าไปในเขตที่ติดตั้งป้าย
4. ห้ามเฉพาะรถยนต์ผ่านเข้าไปในเขตที่ติดตั้งป้าย

ข้อที่ 8 (Q00000196)
เมื่อพบเครื่องหมายนี้ ผู้ขับขี่ต้องปฏิบัติอย่างไร



1. ต้องหยุดให้รถและคนเดินเท้าในทางขวางหน้าผ่านไวก่อน เมื่อเห็นว่าปลอดภัยแล้ว จึงขับรถต่อไปได้
2. ห้ามหยุดรถทุกชนิด
3. ให้ขับรถไปได้เฉพาะรถแก่ง เพราะเป็นทางเอก
4. ให้ลดความเร็วลง และขับต่อไปช้าๆ

ข้อที่ 9 (Q00000207)
เครื่องหมายนี้ หมายความว่าอย่างไร



1. ให้ชิดขวา
2. ให้ชิดซ้าย
3. ให้เลี้ยวซ้าย
4. ให้เลี้ยวขวา

ข้อที่ 10 (Q00000215)
เครื่องหมายนี้ หมายความว่าอย่างไร



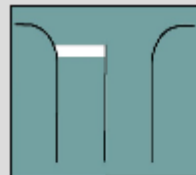
1. ให้เลี้ยวซ้าย
2. ให้เลี้ยวขวา
3. ห้ามเลี้ยวขวา
4. ห้ามเลี้ยวซ้าย

ข้อที่ 11 (Q00000246)
เมื่อพบเครื่องหมายนี้ ผู้ขับขี่ควรปฏิบัติอย่างไร




1. ชับรถให้ช้าลง เพิ่มความระมัดระวัง ทางข้างหน้ามีสะพานแคบ
2. ชับรถอย่างรวดเร็ว เพิ่มความระมัดระวัง ทางข้างหน้าเป็นทางลงลาดชัน
- ➔ 3. ชับรถให้ช้าลง และเพิ่มความระมัดระวัง ทางข้างหน้าต้องใช้ทางเบี่ยงด้านขวา
4. ชับรถให้ช้าลง เพิ่มความระมัดระวัง ทางข้างหน้าเป็นทางขึ้นลาดชัน

ข้อที่ 12 (Q00000283)
เมื่อพบเครื่องหมายนี้ ผู้ขับขี่ควรปฏิบัติอย่างไร



1. ให้ผู้ขับขี่ขับรถอย่างรวดเร็ว เส้นให้ไปได้ทันที
2. ให้ผู้ขับขี่ ชับรถให้ช้าลง แล้ว แชนงได้
- ➔ 3. ให้หยุดรถก่อนถึงแนวเส้นขวางทุกครั้ง
4. ให้ผู้ขับขี่ชะลอความเร็วลง และรีบเร่งเครื่องไปก่อน

ข้อที่ 13 (Q00000290)
เมื่อพบเครื่องหมายนี้ ผู้ขับขี่ควรปฏิบัติอย่างไร



1. รถยนต์ทุกชนิด จอดรถได้
2. รถยนต์ทุกชนิด กลับรถได้
3. รถยนต์ทุกชนิดห้ามหยุดทับเส้นทแยงสีเหลือง
4. รถยนต์ทุกชนิด หยุดรถได้

ข้อที่ 14 (Q00000276)
เมื่อพบเครื่องหมายนี้ ผู้ขับขี่ควรปฏิบัติอย่างไร?



1. กลับรถได้เฉพาะรถยนต์
2. ห้ามกลับรถ
3. ลดความเร็วลง สามารถกลับรถได้บริเวณที่มีป้าย
4. ให้เสียค่าใช้จ่าย

ข้อที่ 15 (Q00002459)

ข้อบกพร่องทางลาดชันควรใช้เกียร์ต่ำ เพื่ออะไร

1. เพื่อเพิ่มกำลังรถ
2. เพื่อหน่วงความเร็วของรถ
3. เพื่อลดความร้อนของเครื่องยนต์
4. เพื่อเพิ่มความรวดเร็วของรถ

ข้อที่ 16 (Q00002467)

การตรวจสอบว่าเข็มขัดนิรภัยยังใช้งานได้ดีหรือไม่ ควรตรวจสอบอย่างไร

1. ดูว่าเข็มขัดมีหยีห่อหรือไม่
2. ดูว่าเป็นของใหม่หรือไม่
3. ต้องมีสีเข้มๆ
4. กระทบถึงสายเข็มขัดอย่างรวดเร็ว แล้วสายเข็มขัดต้องล็อก

ข้อที่ 17 (Q00002513)
การเติมน้ำในถังพักหม้อน้ำควรวอยู่ในระดับใด

1. เต็มถัง
2. ครึ่งถัง
3. เติมเท่าไรก็ได้
4. อยู่ระหว่างเกณฑ์สูง-ต่ำ ที่กำหนดไว้ข้างถังพักน้ำ

ข้อที่ 18 (Q00002512)
การตรวจสอบระบบไฟฟ้าในรถยนต์ควรตรวจสอบอะไรบ้าง

1. ไฟเลี้ยวซ้าย-ขวา
2. ไฟเลี้ยวซ้าย-ขวาและไฟหน้าสูงต่ำ-ไฟหรี่ไฟเบรก-ไฟส่องป้ายทะเบียนรถ
3. ไฟหน้าและไฟเลี้ยวซ้ายขวา
4. ไฟเบรกและไฟหน้า

ข้อที่ 19 (Q00002411)

รถที่ไม่เสียภาษีประจำปีภายในกำหนดจะต้องเสียเงินเพิ่มเท่าใด

1. ร้อยละ 20 ต่อปี
2. ร้อยละ 10 ต่อเดือน
3. ร้อยละ 1 ต่อปี

4. ร้อยละ 1 ต่อเดือน

ข้อที่ 20 (Q00002410)

ผู้ขับรถใช้ใบอนุญาตขับรถที่สิ้นอายุมีความผิดอย่างไร

1. จำคุกไม่เกินหนึ่งเดือน

2. ปรับไม่เกินสองพันบาท

3. จำคุกไม่เกินสามเดือน

4. ปรับไม่เกินห้าพันบาท

ข้อที่ 21 (Q00002342)
จากภาพข้อใดถูกต้อง

1. ภาพทางขวามือ



➔ 2. ภาพทางขวามือ



3. ภาพทางขวามือ



4. ภาพทางขวามือ



ข้อที่ 22 (Q00002337)
จากภาพรถคันใดมีสิทธิ์ขับผ่านไปได้อย่างก่อน



1. คันที่มาถึงทางร่วมทางแยกก่อน

2. ทั้งรถ A และ รถ B

➔ 3. รถคัน B

4. รถคัน A

ข้อที่ 23 (Q00000902)
จากภาพผู้ขับขี่ต้องปฏิบัติอย่างไร



1. ห้ามจอดแต่สามารถหยุดรถได้ชั่วคราว
2. ห้ามหยุดแต่สามารถจอดรถได้ทุกชนิด
3. ห้ามหยุดห้ามจอดรถทุกชนิด
4. ห้ามจอดรถทุกชนิดยกเว้นรถยนต์

ข้อที่ 24 (Q00002085)
จากภาพต่อไปนี้ ภาพใดแสดงการจอดรถอย่างถูกต้อง?

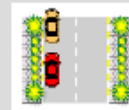
1. ภาพทางขวามือ



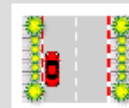
2. ภาพทางขวามือ



3. ภาพทางขวามือ



4. ภาพทางขวามือ



ข้อที่ 25 (Q00002345)

กรณีที่เราเห็นรถคันอื่นให้สัญญาณจะเลี้ยวรถหรือเปลี่ยนช่องทางการเดินรถ จะต้องปฏิบัติอย่างไร

➔ 1. **ชะลอความเร็วและให้ทางแก่เขาไปก่อน**

2. จอดรถ

3. เร่งความเร็วเพื่อจะไปก่อน

4. หยุดรถ

ข้อที่ 26 (Q00002501)

การใช้ไฟสูงหรือไฟขอลทาง เพื่อไล่รถคันหน้าแสดงว่าผู้ขับขี่ขาดสิ่งใด

1. จิตสำนึกในการขับขี่อย่างปลอดภัย

➔ 2. **มารยาทในการขับขี่**

3. การบำรุงรักษาเครื่องยนต์

4. เทคนิคการขับขี่ที่ดี

ข้อที่ 27 (Q00002494)

เมื่อเกิดอุบัติเหตุและมีผู้บาดเจ็บ ผู้ขับขี่ควรคำนึงถึงสิ่งใดเป็นอันดับแรก

1. การเคลื่อนย้ายรถที่เกิดเหตุ
2. การช่วยเหลือผู้บาดเจ็บ
3. รอประกันภัย
4. รอพบเจ้าหน้าที่

ข้อที่ 28 (Q00002364)

สัญญาณจราจรไฟสีแดงที่ทำเป็นรูปกากบาทเฉียง อยู่เหนือช่องเดินรถ ห้ามมิให้ผู้ขับขี่ขับรถอย่างไร

1. หยุดและจอดรถในช่องเดินรถนั้น
2. ขับรถในช่องเดินรถนั้น
3. หยุดรถในช่องเดินรถนั้น
4. จอดรถในช่องเดินรถนั้น

ข้อที่ 29 (Q00002397)

ขณะขับรถตรวจพบแอลกอฮอล์ในร่างกายเกินกว่า
ที่กฎหมายกำหนดมีโทษอย่างไร

1. ปรับไม่เกิน 5,000 บาท
2. จำคุกไม่เกิน 3 เดือนหรือปรับตั้งแต่ 2,000 ถึง 10,000 บาท หรือทั้งจำทั้งปรับ
3. จำคุกไม่เกิน 3 เดือนหรือปรับตั้งแต่ 1,000 ถึง 50,000 บาท
4. ปรับไม่เกิน 10,000 บาท

ข้อที่ 30 (Q00002380)

การลากจูงรถที่ไม่สามารถใช้พวงมาลัยหรือเบรก
ได้ควรทำอย่างไร

1. ใช้สายพ่วงลากจูงไป
2. ใช้รดดันไป
3. ใช้คนดันไป
4. ใช้วิธีการยกหน้าหรือยกท้ายลากไป

ធនធាន

1. ថ្ងៃ 2
2. ថ្ងៃ 1
3. ថ្ងៃ 3
4. ថ្ងៃ 1
5. ថ្ងៃ 3
6. ថ្ងៃ 1
7. ថ្ងៃ 2
8. ថ្ងៃ 1
9. ថ្ងៃ 2
10. ថ្ងៃ 2
11. ថ្ងៃ 3
12. ថ្ងៃ 3
13. ថ្ងៃ 3
14. ថ្ងៃ 3
15. ថ្ងៃ 2
16. ថ្ងៃ 4
17. ថ្ងៃ 4
18. ថ្ងៃ 2
19. ថ្ងៃ 4
20. ថ្ងៃ 2
21. ថ្ងៃ 2
22. ថ្ងៃ 3
23. ថ្ងៃ 3
24. ថ្ងៃ 1
25. ថ្ងៃ 1
26. ថ្ងៃ 2
27. ថ្ងៃ 2
28. ថ្ងៃ 2
29. ថ្ងៃ 2
30. ថ្ងៃ 4

